

K 03

రాజీవ్ విద్యామిషన్ - కర్నూల్
సంగ్రహణాత్మక మదింపు - III (వార్షిక పరీక్షలు - 20__)

తరగతి : 1వ]

[విషయం : గణితం

[సమయం : 2 1/2 గంటలు

విద్యార్థి పేరు : నెం :

విద్యా ప్రమాణం	సమస్యసాధన					కార్యాకారణ చింతన						వ్యక్తపరచడం		సంధాన పరచడం			స్థాతినిర్ణయపరచడం				మార్కులు
	1	2	3	4	5	6	7	8	9	10	11	12	13	14	15	16	17	18	19	20	
ప్రశ్నల సంఖ్య																					
ప్రశ్నల సంఖ్య గ్రహణ																					
విద్యా ప్రమాణం గ్రహణ																					

క్రింది లెక్కలు చేయండి :

1. అ) $4 + 3 = \square$

అ) $7 + 2 = \square$

ఇ) $0 + 5 = \square$

ఈ) $6 + 3 = \square$

2. అ) $7 - 5 = \square$

అ) $5 - 0 = \square$

ఇ) $9 - 2 = \square$

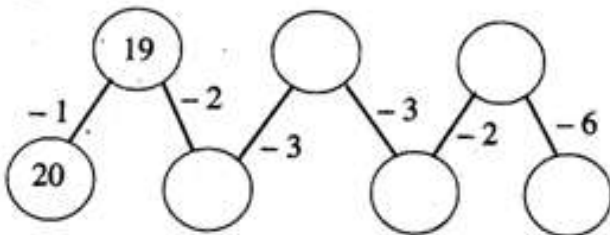
ఈ) $8 - 2 = \square$

3. పరిశీలించండి. సరైన సంఖ్యచే ఖాళీగడిని పూరించండి.



$\square 7 \square + \square 5 \square = \square \square \square$


4. \bigcirc లలో సరైన సంఖ్యలు వ్రాయండి.



[Turn Over

5. పుల్లలను, కట్టలను లెక్కించండి. సంఖ్యను వ్రాయండి.

ఉదా :



6. సరైన సంఖ్యలను లలో వ్రాయండి.

అ)

4		6
---	--	---

ఆ)

	8	
--	---	--

ఇ)

	30	
--	----	--

ఈ)

79		
----	--	--

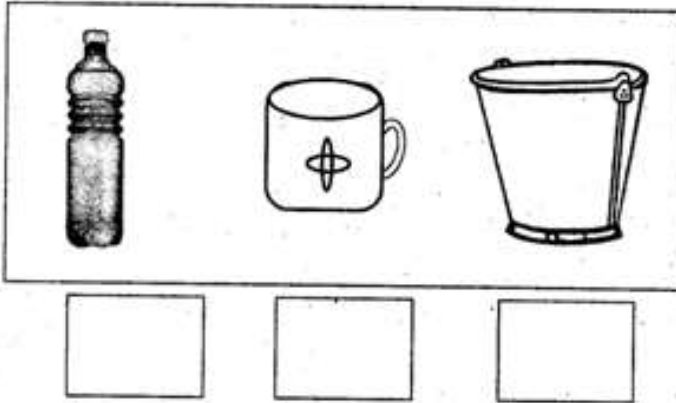
7. 10, 20, 30 _____, _____, _____, _____ క్రమాన్ని పూరించండి.

8. అతిపెద్ద సంఖ్యకు '○' చుట్టండి.

18, 25, 9, 63, 47

[Contd 3rd

9. దేనిలో ఎక్కువ నీరు పడుతుందో దానిని లో ✓ తో గుర్తించండి.



10. బరువైన వైపు లో ✓ తో గుర్తించండి.



11. $5 + 4$, $3 + 6$, $6 + 4$, $2 + 7$ లలో జవాబు వేరుగా ఉన్నదానికి చుట్టండి.

12. "అరవై తొమ్మిది" సంఖ్యను అంకెలలో వ్రాయండి.

[Turn Over

13. ఈ క్రింది సంఖ్యలను అక్షరాలలో వ్రాయండి


అ) 16 = _____

ఆ) 30 = _____

ఇ) 9 = _____

ఈ) 5 = _____

14. సరియైన అంకెలతో లను పూరించండి.



$$\boxed{} - \boxed{} = \boxed{}$$

15. ఖాళీ గడులను నింపండి.



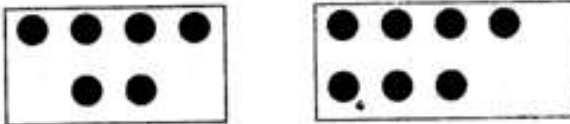
$$\boxed{40} + \boxed{7} = \bigcirc$$

పదులు

ఒకట్లు

<input type="text"/>	<input type="text"/>
----------------------	----------------------

16. ఖాళీ గడులను నింపండి.



$$\boxed{} + \boxed{} = \boxed{}$$

[Contd 5th

17. ఈ క్రింది వానిని జతపరచండి.




18. సరికొలిపండి. జతపరచండి.



[Turn Over

19. పరిశీలించండి వ్రాయండి.




అ) □ లు _____ ఉన్నాయి

ఆ) △ లు _____ ఉన్నాయి

ఇ) ○ లు _____ ఉన్నాయి

ఈ) □ లు _____ ఉన్నాయి

20. ఈ క్రింది చిత్రం పరిశీలించి, లెక్కించి వ్రాయండి.



[Contd 7th]

